



# Spiele

## Verkehrszeichenquiz für den OHP

### Material und Tipps zur Durchführung

Fünf Folien für den OHP, auf die die Aufgaben gezeichnet sind. Achtung: Zum Ausmalen der Verkehrszeichen sind die Zahlen auf der Umrissvorlage zu beachten: 1 = Gelb 2 = Rot 3 = Blau 4 = Grün

Tipp: Erst eine Kopie auf Papier machen und auf dieser die Zahlen mit Tippex entfernen. Von dieser Vorlage dann eine Kopie auf Folie machen und diese ausmalen.

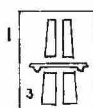
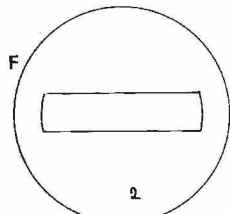
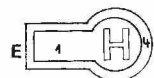
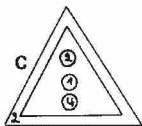
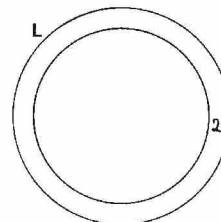


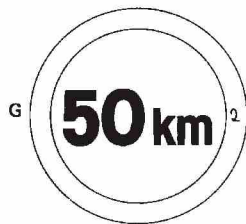
Die Lösungszettel in der entsprechenden Anzahl (Jungcharler oder Gruppen) kopieren.

s. Vorlage 12-1/01  
bis 16-1/01

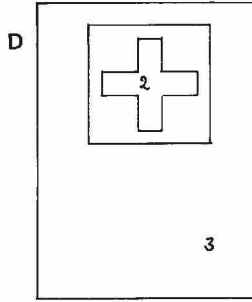
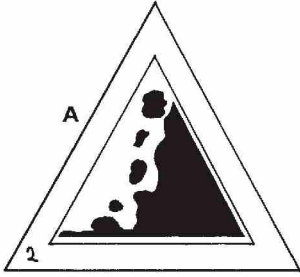
s. Vorlage 17-1/01

Hartmut Jaeger, Haiger-Steinbach

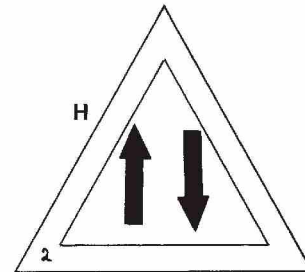
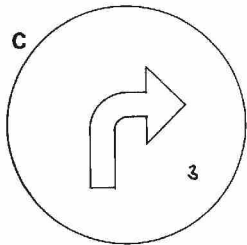
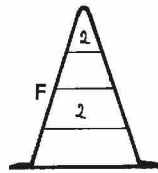
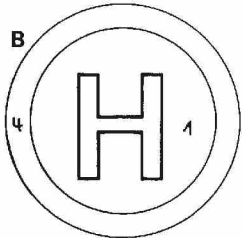
### 1. Welche Namen haben folgende Verkehrszeichen?



## 2. Ordne den Verkehrszeichen die richtigen Nummern zu!

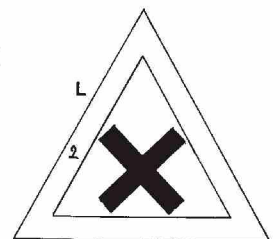
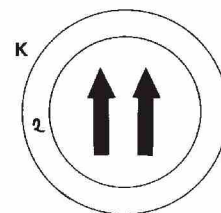
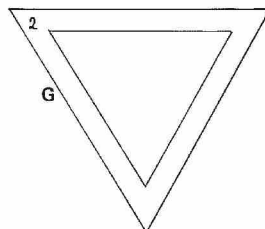
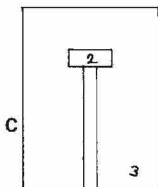
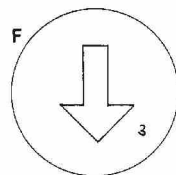
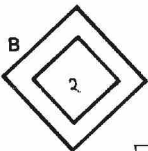
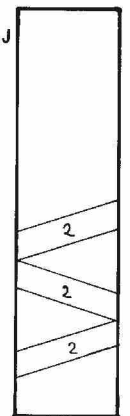

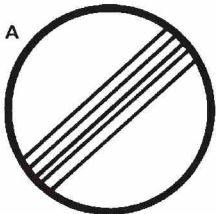


- 1 Straßenbahnhaltestelle
- 2 Achtung ! Steinschlag
- 3 Nummernschild für Europastraßen
- 4 Leitkegel
- 5 Hinweis auf Erste Hilfe
- 6 Vorgeschriebene Fahrtrichtung Rechts
- 7 Achtung ! Gegenverkehr
- 8 Fußweg



Vorlage 13-1/01

## 3. Gibt es diese Verkehrszeichen - ja oder nein?



Vorlage 14-1/01

**4. Setze die Verkehrszeichen wieder zusammen! Welches Teil gehört zu welchem?**

**G Bahnhof**

**F Einbahnstraße**

Vorlage 15-1/01

**5. Setze aus drei Teilen ein Verkehrszeichen zusammen! Es darf kein Teil übrig bleiben.**

Vorlage 16-1/01



# Lösungszettel



1. Welchen Namen haben folgende Verkehrszeichen?

- A \_\_\_\_\_
- B \_\_\_\_\_
- C \_\_\_\_\_
- D \_\_\_\_\_
- E \_\_\_\_\_
- F \_\_\_\_\_
- G \_\_\_\_\_
- H \_\_\_\_\_
- I \_\_\_\_\_
- J \_\_\_\_\_
- K \_\_\_\_\_
- L \_\_\_\_\_
- M \_\_\_\_\_

2. Ordne den Verkehrszeichen den richtigen Namen zu!

A \_\_\_\_\_ B \_\_\_\_\_ C \_\_\_\_\_ D \_\_\_\_\_ E \_\_\_\_\_ F \_\_\_\_\_ G \_\_\_\_\_ H \_\_\_\_\_

3. Gibt es diese Verkehrszeichen - ja oder nein?

A \_\_\_\_\_ B \_\_\_\_\_ C \_\_\_\_\_ D \_\_\_\_\_ E \_\_\_\_\_ F \_\_\_\_\_ G \_\_\_\_\_

H \_\_\_\_\_ I \_\_\_\_\_ J \_\_\_\_\_ K \_\_\_\_\_ L \_\_\_\_\_ M \_\_\_\_\_

4. Setze die Verkehrszeichen wieder zusammen!

A \_\_\_\_\_ B \_\_\_\_\_ C \_\_\_\_\_ D \_\_\_\_\_ E \_\_\_\_\_ F \_\_\_\_\_ G \_\_\_\_\_

5. Setze aus drei Teilen ein Verkehrszeichen zusammen!

1 \_\_\_\_\_ 2 \_\_\_\_\_ 4 \_\_\_\_\_ 5 \_\_\_\_\_ 6 \_\_\_\_\_ 8 \_\_\_\_\_